





**INFORMATIK-BIBER SCHWEIZ
CASTOR INFORMATIQUE SUISSE
CASTORO INFORMATICO SVIZZERA**

Exercices 2021

Années HarmoS 7/8



<https://www.castor-informatique.ch/>



Éditeurs :


Susanne Datzko, Elsa Pellet, Jean-Philippe Pellet,
Fabian Frei, Gabriel Parriaux



010100110101011001001001
010000010010110101010011
010100110100100101000101
001011010101001101010011
010010010100100100100001

SS!E

www.svia-ssie-ssii.ch
schweizerischerverein für informatik in d
erausbildung // société suisse pour l'infor
matique dans l'enseignement // società sviz
zera per l'informatica nell'insegnamento





Ont collaboré au Castor Informatique 2021

Masiar Babazadeh, Susanne Datzko, Fabian Frei, Martin Guggisberg, Gabriel Parriaux, Jean-Philippe Pellet

Cheffe de projet : Nora A. Escherle

Nous adressons nos remerciements pour le travail de développement des exercices du concours à :
Juraj Hromkovič, Michael Barot, Christian Datzko, Jens Gallenbacher, Dennis Komm, Regula Lacher,
Peter Rossmanith : ETH Zurich, Ausbildungen- und Beratungszentrum für Informatikunterricht
Bernadette Spieler : Pädagogische Hochschule Zürich

Le choix des exercices a été fait en collaboration avec les organisateur de Bebras en Allemagne, Autriche, Hongrie, Slovaquie et Lituanie. Nous remercions en particulier :

Valentina Dagienė, Tomas Šiaulyš, Vaidotas Kinčius : Bebras.org

Wolfgang Pohl, Hannes Endreß, Ulrich Kiesmüller, Kirsten Schlüter, Michael Weigend : Bundesweite Informatikwettbewerbe (BWINF), Allemagne

Wilfried Baumann, Liam Baumann, Anoki Eischer, Thomas Galler, Benjamin Hirsch, Martin Kandlhofer, Katharina Resch-Schobel : Österreichische Computer Gesellschaft

Gerald Futschek, Florentina Voboril : Technische Universität Wien

Zsuzsa Pluhár : ELTE Informatikai Kar, Hongrie

Michal Winzcer : Université Comenius de Bratislava, Slovaquie

La version en ligne du concours a été réalisée sur l'infrastructure cuttle.org. Nous remercions pour la bonne collaboration :

Eljakim Schrijvers, Justina Dauksaite, Arne Heijenga, Dave Oostendorp, Andrea Schrijvers, Alieke Stijf, Kyra Willekes : cuttle.org, Pays-Bas

Chris Roffey : UK Bebras Administrator, Royaume-Uni

Pour le support pendant les semaines du concours, nous remercions en plus :

Hanspeter Erni : Direction, école secondaire de Rickenbach

Christoph Frei : Chragokyberneticks (Logo Castor Informatique Suisse)

Dr. Andrea Leu, Maggie Winter, Brigitte Manz-Brunner : Senarclens Leu + Partner AG

Ces brochures sont dédiées à la mémoire de Martin Guggisberg.

La version allemande des exercices a également été utilisée en Allemagne et en Autriche.

L'adaptation française a été réalisée par Elsa Pellet et l'adaptation italienne par Christian Giang.



INFORMATIK-BIBER SCHWEIZ
CASTOR INFORMATIQUE SUISSE
CASTORO INFORMATICO SVIZZERA

Le Castor Informatique 2021 a été réalisé par la Société Suisse pour l'Informatique dans l'Enseignement (SSIE) et soutenu par la Fondation Hasler.

HASLERSTIFTUNG

Cette brochure a été produite le 24 août 2022 avec le système de composition de documents \LaTeX . Nous remercions Christian Datzko pour le développement et maintien de la structure de génération des 36 versions de cette brochure (selon les langues et les degrés). La structure actuelle a été mise en place de manière similaire à la structure précédente, qui a été développée conjointement avec Ivo Blöchliger dès 2014. Nous remercions aussi Jean-Philippe Pellet pour le développement de la série d'outils `bebras`, qui est utilisée depuis 2020 pour la conversion des documents source depuis les formats Markdown et YAML.

Tous les liens dans les tâches ci-après ont été vérifiés le 1^{er} décembre 2021.



Les exercices sont protégés par une licence Creative Commons Paternité – Pas d'Utilisation Commerciale – Partage dans les Mêmes Conditions 4.0 International. Les auteur·e·s sont cité·e·s en p. 13.



Préambule

Très bien établi dans différents pays européens et plus largement à l'échelle mondiale depuis plusieurs années, le concours « Castor Informatique » a pour but d'éveiller l'intérêt des enfants et des jeunes pour l'informatique. En Suisse, le concours est organisé en allemand, en français et en italien par la SSIE, la Société Suisse pour l'Informatique dans l'Enseignement, et soutenu par la Fondation Hasler dans le cadre du programme d'encouragement « FIT in IT ».

Le Castor Informatique est le partenaire suisse du concours « Bebras International Contest on Informatics and Computer Fluency » (<https://www.bebas.org/>), initié en Lituanie.

Le concours a été organisé pour la première fois en Suisse en 2010. Le Petit Castor (années HarmoS 5 et 6) a été organisé pour la première fois en 2012.

Le Castor Informatique vise à motiver les élèves à apprendre l'informatique. Il souhaite lever les réticences et susciter l'intérêt quant à l'enseignement de l'informatique à l'école. Le concours ne suppose aucun prérequis quant à l'utilisation des ordinateurs, sauf de savoir naviguer sur Internet, car le concours s'effectue en ligne. Pour répondre, il faut structurer sa pensée, faire preuve de logique mais aussi de fantaisie. Les exercices sont expressément conçus pour développer un intérêt durable pour l'informatique, au-delà de la durée du concours.

Le concours Castor Informatique 2021 a été fait pour cinq tranches d'âge, basées sur les années scolaires :

- Années HarmoS 5 et 6 (Petit Castor)
- Années HarmoS 7 et 8
- Années HarmoS 9 et 10
- Années HarmoS 11 et 12
- Années HarmoS 13 à 15

Les élèves des années HarmoS 5 et 6 avaient 9 exercices à résoudre : 3 faciles, 3 moyens, 3 difficiles. Les élèves des années HarmoS 7 et 8 avaient, quant à eux, 12 exercices à résoudre (4 de chaque niveau de difficulté). Finalement, chaque autre tranche d'âge devait résoudre 15 exercices (5 de chaque niveau de difficulté).

Chaque réponse correcte donnait des points, chaque réponse fautive réduisait le total des points. Ne pas répondre à une question n'avait aucune incidence sur le nombre de points. Le nombre de points de chaque exercice était fixé en fonction du degré de difficulté :

	Facile	Moyen	Difficile
Réponse correcte	6 points	9 points	12 points
Réponse fautive	-2 points	-3 points	-4 points

Utilisé au niveau international, ce système de distribution des points est conçu pour limiter le succès en cas de réponses données au hasard.



Chaque participant·e obtenait initialement 45 points (ou 27 pour la tranche d'âge «Petit Castor», et 36 pour les années HarmoS 7 et 8).

Le nombre de points maximal était ainsi de 180 (ou 108 pour la tranche d'âge «Petit Castor», et 144 pour les années HarmoS 7 et 8). Le nombre de points minimal était zéro.

Les réponses de nombreux exercices étaient affichées dans un ordre établi au hasard. Certains exercices ont été traités par plusieurs tranches d'âge.

Pour de plus amples informations :

SVIA-SSIE-SSII Société Suisse pour l'Informatique dans l'Enseignement

Castor Informatique

Gabriel Parriaux

<https://www.castor-informatique.ch/fr/kontaktieren/>

<https://www.castor-informatique.ch/>



Table des matières

Ont collaboré au Castor Informatique 2021	i
Préambule	iii
Table des matières	v
1. Construction de pont	1
2. Cadeau favori	2
3. Porte-clés	3
4. Timber!	4
5. Chemins tortueux	5
6. Les moulins de castor Max	6
7. Sac de pièces	7
8. Rencontre	8
9. Emménagement	9
10. Voleur de fraise	10
11. Gardes forestiers	11
12. Casse-tête d'anniversaire	12
A. Auteur-e-s des exercices	13
B. Sponsoring: Concours 2021	14
C. Offres ultérieures	16




1. Construction de pont

Bella aimerait construire un pont par-dessus un ruisseau. Elle a besoin d'un marteau, de clous, de planches et d'une corde. Elle trouve un marteau et une corde à la cave.



Elle doit acheter les autres objets. En bas, tu vois trois magasins et ce qu'ils vendent.

Dans quels magasins Bella peut-elle acheter les autres objets ?





2. Cadeau favori

La famille castor a trois cadeaux pour ses trois enfants. Chaque enfant indique d'abord son cadeau favori, puis son second choix. Les cadeaux doivent être bien distribués :

1. Le plus d'enfants possible doivent recevoir leur cadeau favori.
2. Les autres enfants doivent recevoir leur second choix.

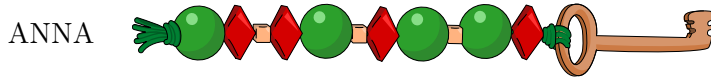
Donne les bons cadeaux aux enfants.





3. Porte-clés

ANNA, BELLA et LENA font des porte-clés avec leur nom. Elles utilisent deux sortes de perles pour les lettres : ● et ◆. Différentes lettres sont séparées par la perle ◻.



Quel porte-clés LENA a-t-elle fait ?

- A)
- B)
- C)
- D)




4. Timber !

Un castor aimerait construire un barrage. Afin de toujours abattre les bons arbres, il s'est fixé deux règles. Il n'abat un arbre que si :

- un arbre plus petit pousse directement à sa gauche et
- un arbre plus grand pousse directement à sa droite.

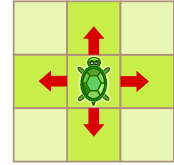
Quels arbres le castor va-t-il abattre ?





5. Chemins tortueux

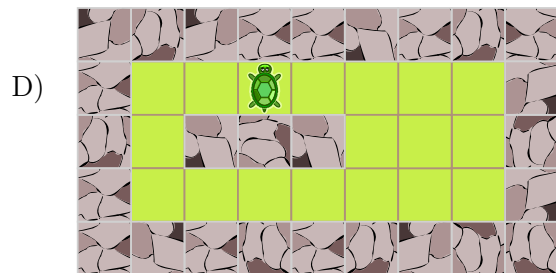
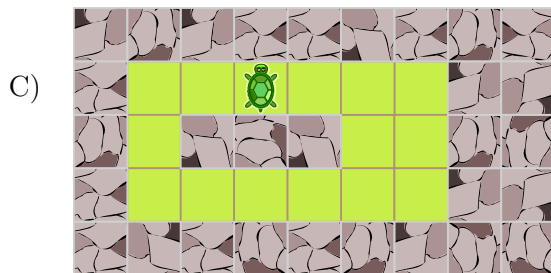
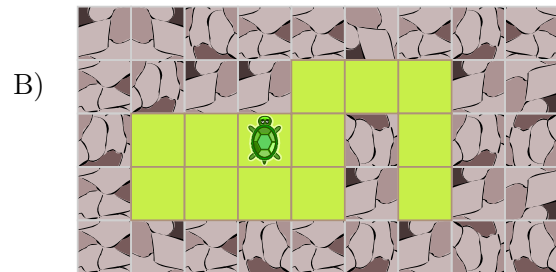
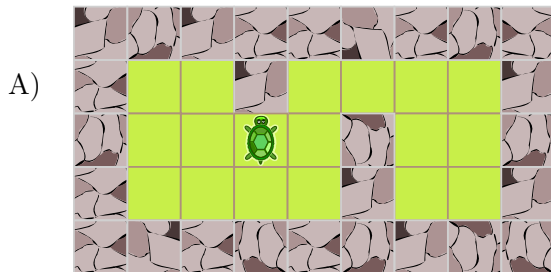
Une tortue doit brouter plusieurs jardins. Chaque jardin est divisé en carrés qui sont recouverts soit de gazon, soit de pierres. La tortue ne peut pas traverser un carré avec des pierres, mais elle peut passer d'une case d'herbe à une autre case d'herbe qui se trouve directement à côté.



La tortue doit complètement brouter les jardins. elle commence sur la case sur laquelle elle est sur l'image. À la fin, elle doit avoir passé exactement une fois sur chaque case d'herbe.

Il y a malheureusement un jardin qu'elle ne peut pas brouter complètement de cette façon.

De quel jardin s'agit-il ?






6. Les moulins de castor Max

Le meunier Max a six moulins. Il doit encore fixer la roue de trois d'entre eux. Pour cela, il doit empêcher l'eau d'arriver à ces moulins. L'eau doit par contre continuer de couler jusqu'aux autres moulins.

L'eau ne peut couler que vers le bas. Un clapet fermé empêche l'eau de couler.

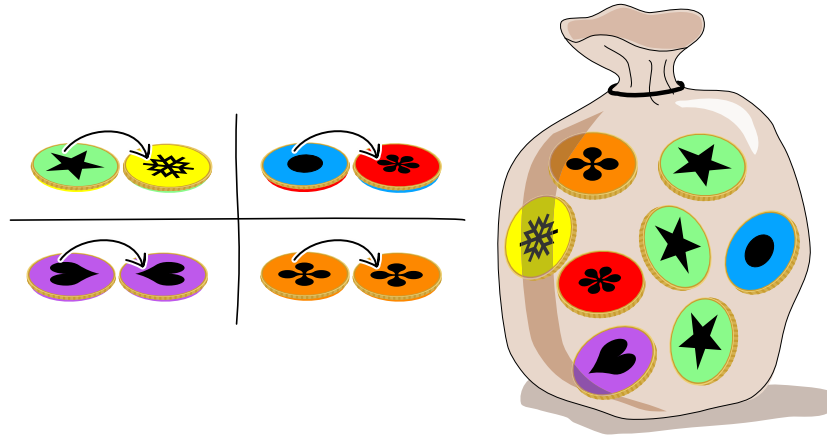
Quels clapets faut-il fermer ?





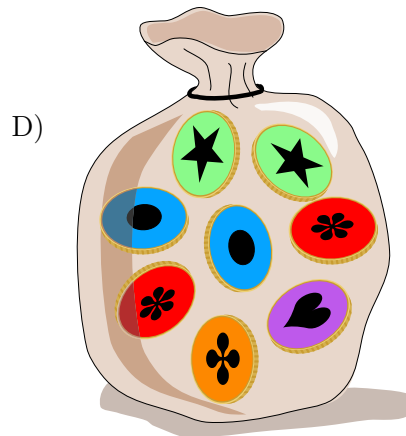
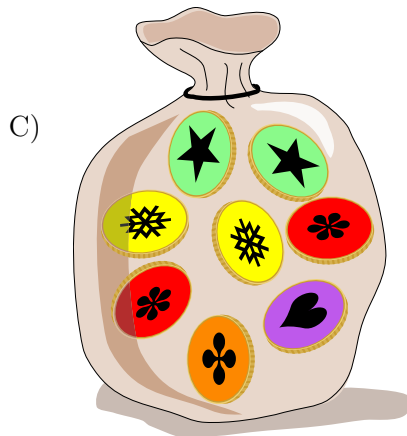
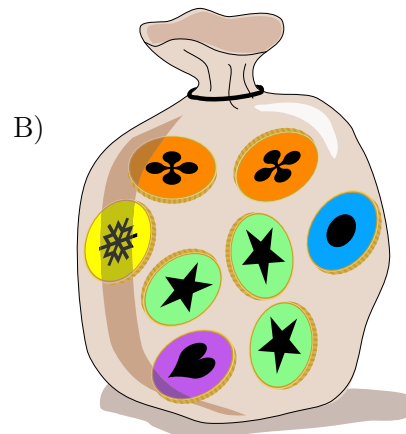
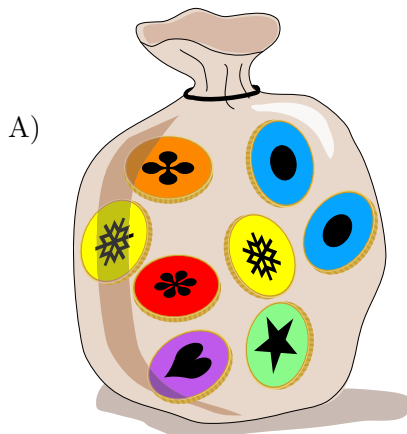
7. Sac de pièces

Il existe quatre sortes de pièces de monnaie différentes dans le pays d'Émile. Tu peux voir ici les deux côtés de ces pièces ainsi que le sac d'Émile avec ses pièces.



Émile secoue son sac de pièces.

Quel sac est celui d'Émile ?

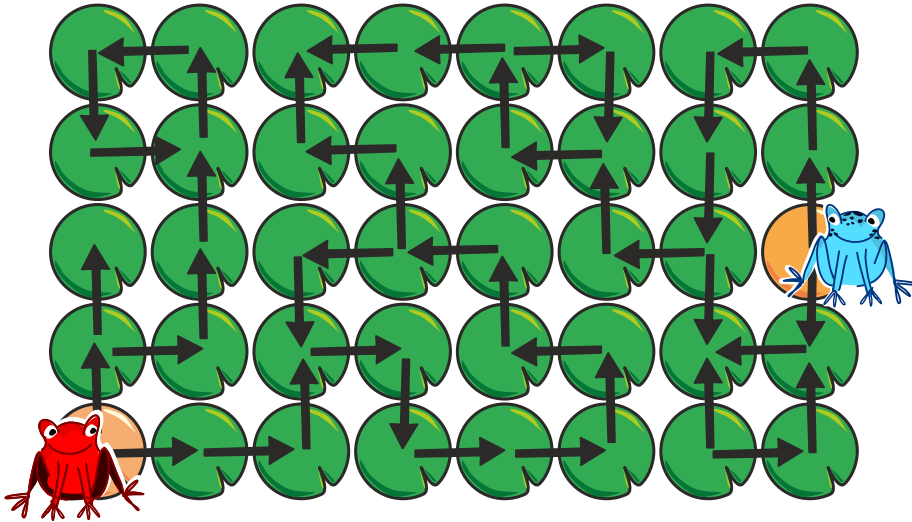




8. Rencontre

Sur un étang couvert de nénuphars, deux grenouilles peuvent se déplacer en sautant de feuille en feuille — mais seulement en suivant le sens des flèches.

Sur quelle feuille les deux grenouilles peuvent-elles se rencontrer ?



Man kann auf die Blätter klicken. Klickt man auf ein Blatt, wird dieses ausgewählt und gleichzeitig ein bereits ausgewähltes Blatt wieder deaktiviert.




9. Emménagement

Les tachetés sont des oiseaux qui ont des points sur leurs plumes. Cinq tachetés sont à côté d'un arbre. Ils grimpent dans l'arbre l'un après l'autre — de gauche à droite — et emménagent dans les nids vides. Le tacheté avec quatre points commence. Chaque tacheté procède comme suit :

Il commence en bas de l'arbre. Il effectue les étapes suivantes jusqu'à ce qu'il ait trouvé un nid vide :

1. Il grimpe jusqu'à ce qu'il trouve un nid.
2. Si le nid est vide, il y emménage et reste là.
3. Sinon, il continue à grimper :
 - vers la gauche si le tacheté dans le nid a plus de points que lui ;
 - vers la droite si le tacheté dans le nid a le même nombre ou moins de points que lui.

Où se trouvent les tachetés à la fin ? Place chaque tacheté dans le bon nid.






10. Voleur de fraise

Anja veut créer une œuvre d'art dans le jardin et a ramassé pour cela différents objets : plusieurs glands, noisettes et cailloux ainsi qu'une fraise. Elle met quelques objets dans l'herbe.

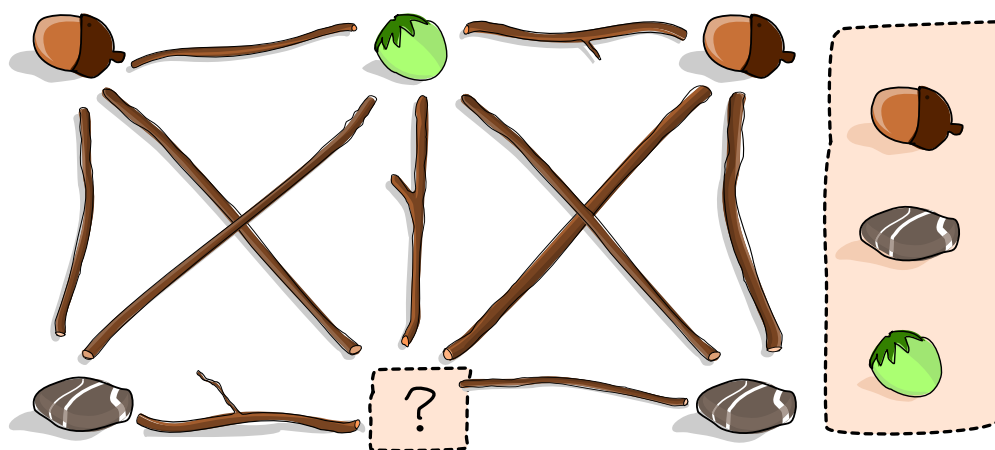
Ensuite, Anja dispose des branches entre ces objets. Elle suit pour cela la règle suivante : une branche ne doit pas se trouver entre deux objets pareils, par exemple entre deux glands. Voici l'œuvre d'art terminée :



Le frère d'Anja vient et mange la fraise pendant qu'elle n'est pas là.

Peux-tu aider le frère d'Anja à dissimuler son méfait ?

Place un autre objet à la place de la fraise et enlève exactement une branche. L'œuvre d'art modifiée doit respecter la règle d'Anja.

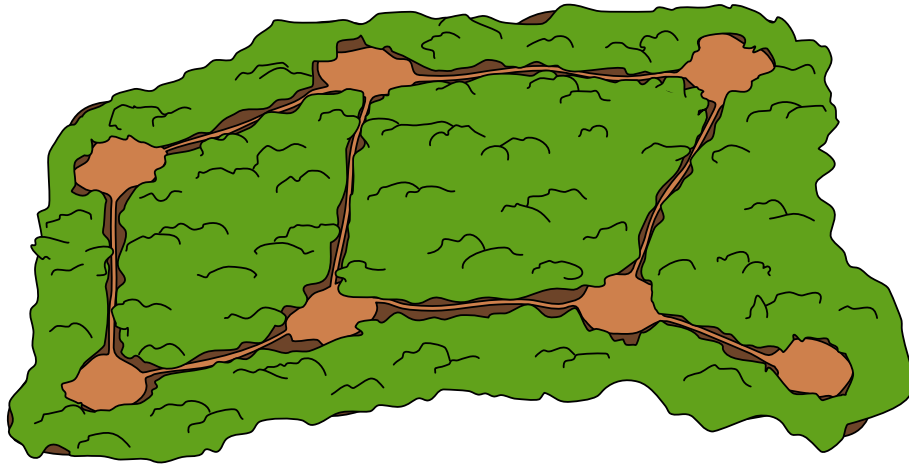




11. Gardes forestiers

Les gardes forestiers veulent observer les animaux sur les sentiers de la forêt. Depuis chaque clairière, ils peuvent voir tous les sentiers allant de cette clairière à une clairière suivante. Il doit y avoir aussi peu de gardes forestiers que possible qui surveillent les sentiers.

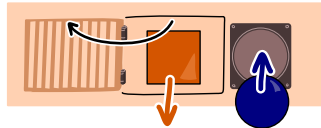
Choisis des clairières afin que tous les sentiers puissent être surveillés par aussi peu de gardes forestiers que possible






12. Casse-tête d'anniversaire

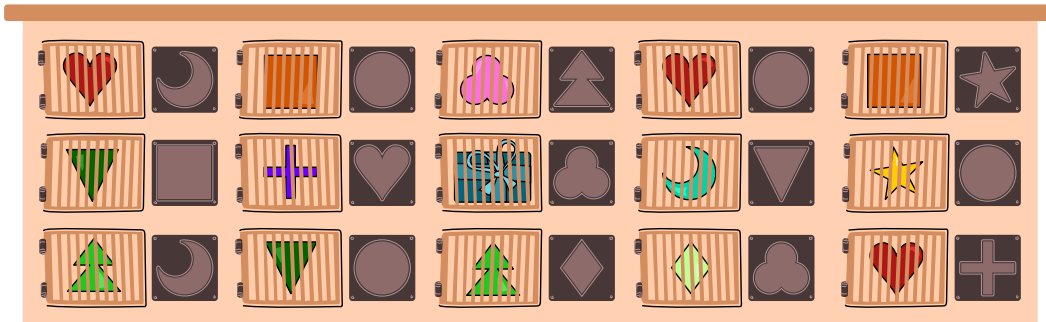
Pour son anniversaire, Bastien reçoit une boîte avec 15 portes. Il y a un autre cadeau derrière la porte du milieu et des plots de différentes formes derrière les autres portes. Chaque porte est associée à un trou qui se trouve à sa droite. Bastien peut ouvrir une porte en mettant un plot de la même forme dans le trou — comme une clé dans une serrure.



Au début, Bastien a ce plot rond : 

Il veut ouvrir au maximum cinq portes pour obtenir le cadeau.

Quelle porte Bastien doit-il ouvrir en premier ?





A. Auteur·e·s des exercices


 Sarah Atkins


 Michael Barot

 Liam Baumann

 Linda Björk Bergsveinsdóttir


 Sarah Chan

 Valentina Dagienė

 Christian Datzko


 Susanne Datzko

 Nora A. Escherle

 Margarita Flores-Sicich

 Fabian Frei

 Gerald Futschek


 Yasemin Gülbahar

 Ezgi Arzu Güneş

 Benjamin Hirsch

 Juraj Hromkovič


 Andrea Hrušecká

 Tiberiu Iorgulescu

 Ungyeol Jung


 Filiz Kalelioğlu

 Martin Kandlhofer

 Vaidotas Kinčius

 Víctor Koleszar

 Regula Lacher

 Taina Lehtimäki

 Marielle Léonard

 Tom Naughton

 Graciela Oyhenard


 Elsa Pellet

 Jean-Philippe Pellet


 Zsuzsa Pluhár


 Wolfgang Pohl

 Peter Rossmanith

 Eljakim Schrijvers

 Rosario Schunk

 Troy Vasiga

 Florentina Voboril

 Michael Weigend



B. Sponsoring : Concours 2021

HASLERSTIFTUNG <http://www.haslerstiftung.ch/>

<http://www.baerli-biber.ch/>



<http://www.verkehrshaus.ch/>
Musée des transports, Lucerne



Kanton Zürich
Volkswirtschaftsdirektion
Amt für Wirtschaft und Arbeit

Standortförderung beim Amt für Wirtschaft und Arbeit Kanton Zürich



i-factory (Musée des transports, Lucerne)



<http://www.ubs.com/>



<http://www.oxocard.ch/>
OXOcard
OXON



<https://educatec.ch/>
educaTEC



<http://senarclens.com/>
Senarclens Leu & Partner



<http://www.abz.inf.ethz.ch/>
Ausbildungs- und Beratungszentrum für Informatikunterricht der ETH Zürich.



hep/ haute
école
pédagogique
vaud

<http://www.hepl.ch/>
Haute école pédagogique du canton de Vaud

PH LUZERN
PÄDAGOGISCHE
HOCHSCHULE

<http://www.phlu.ch/>
Pädagogische Hochschule Luzern

n|w Fachhochschule
Nordwestschweiz

<https://www.fhnw.ch/de/die-fhnw/hochschulen/ph>
Pädagogische Hochschule FHNW

Scuola universitaria professionale
della Svizzera italiana

<http://www.supsi.ch/home/supsi.html>
La Scuola universitaria professionale della Svizzera italiana
(SUPSI)

SUPSI

PÄDAGOGISCHE
HOCHSCHULE
ZÜRICH

PH
ZH

<https://www.phzh.ch/>
Pädagogische Hochschule Zürich



C. Offres ultérieures

010100110101011001001001
010000010010110101010011
010100110100100101000101
001011010101001101010011
010010010100100100100001

SS!E

www.svia-ssie-ssii.ch
schweizerischervereinfürinformatikind
erausbildung//sociétésuissepourl'infor
matique dans l'enseignement//societasviz
zeraperl'informaticanell'insegnamento

Devenez vous aussi membre de la SSIE

<http://svia-ssie-ssii.ch/la-societe/devenir-membre/>

et soutenez le Castor Informatique par votre adhésion

Peuvent devenir membre ordinaire de la SSIE toutes les personnes qui enseignent dans une école primaire, secondaire, professionnelle, un lycée, une haute école ou donnent des cours de formation ou de formation continue.

Les écoles, les associations et autres organisations peuvent être admises en tant que membre collectif.